

Les nombres de 0 à 5.

1. Je lis les nombres dans l'ordre et dans le désordre

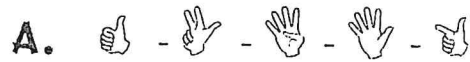


B. 2 - 4 - 1 - 3 - 5

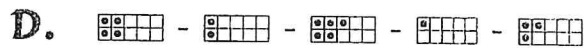


Les nombres de 0 à 5

1. Je lis les nombres dans l'ordre et dans le désordre



B. 2 - 4 - 1 - 3 - 5



Les nombres de 0 à 5

1. Je lis les nombres dans l'ordre et dans le désordre

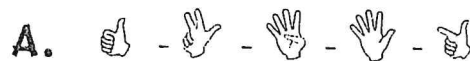


B. 2 - 4 - 1 - 3 - 5



Les nombres de 0 à 5

1. Je lis les nombres dans l'ordre et dans le désordre



B. 2 - 4 - 1 - 3 - 5



## Les nombres de 0 à 10

1. 📖 Je lis les nombres
2. ? Je dis le nombre qui vient avant
3. ? Je dis le nombre qui vient après
4. ✍ Je range les nombres du plus petit au plus grand

A. 3 - 4 - 2 - 5 - 7

B. 6 - 1 - 5 - 7 - 4

C. 8 - 5 - 4 - 2 - 6

D. 9 - 3 - 1 - 7 - 5

## Les nombres de 0 à 10

1. 📖 Je lis les nombres
2. ? Je dis le nombre qui vient avant
3. ? Je dis le nombre qui vient après
4. ✍ Je range les nombres du plus petit au plus grand

A. 3 - 4 - 2 - 5 - 7

B. 6 - 1 - 5 - 7 - 4

C. 8 - 5 - 4 - 2 - 6

D. 9 - 3 - 1 - 7 - 5

## Les nombres de 0 à 10

1. 📖 Je lis les nombres
2. ? Je dis le nombre qui vient avant
3. ? Je dis le nombre qui vient après
4. ✍ Je range les nombres du plus petit au plus grand

A. 3 - 4 - 2 - 5 - 7

B. 6 - 1 - 5 - 7 - 4

C. 8 - 5 - 4 - 2 - 6

D. 9 - 3 - 1 - 7 - 5

## Les nombres de 0 à 10

1. 📖 Je lis les nombres
2. ? Je dis le nombre qui vient avant
3. ? Je dis le nombre qui vient après
4. ✍ Je range les nombres du plus petit au plus grand

A. 3 - 4 - 2 - 5 - 7

B. 6 - 1 - 5 - 7 - 4

C. 8 - 5 - 4 - 2 - 6

D. 9 - 3 - 1 - 7 - 5

## Les nombres de 0 à 10

1. 👁 Je lis les nombres
2. ? Je dis le nombre qui vient avant
3. ? Je dis le nombre qui vient après
4. ✍ Je range les nombres du plus grand au plus petit

A. 5 - 3 - 4 - 7 - 1

B. 8 - 5 - 3 - 9 - 2

C. 6 - 1 - 9 - 3 - 5

D. 9 - 2 - 4 - 7 - 8

## Les nombres de 0 à 10

1. 👁 Je lis les nombres
2. ? Je dis le nombre qui vient avant
3. ? Je dis le nombre qui vient après
4. ✍ Je range les nombres du plus grand au plus petit

A. 5 - 3 - 4 - 7 - 1

B. 8 - 5 - 3 - 9 - 2

C. 6 - 1 - 9 - 3 - 5

D. 9 - 2 - 4 - 7 - 8

## Les nombres de 0 à 10

1. 👁 Je lis les nombres
2. ? Je dis le nombre qui vient avant
3. ? Je dis le nombre qui vient après
4. ✍ Je range les nombres du plus grand au plus petit

A. 5 - 3 - 4 - 7 - 1

B. 8 - 5 - 3 - 9 - 2

C. 6 - 1 - 9 - 3 - 5

D. 9 - 2 - 4 - 7 - 8

## Les nombres de 0 à 10

1. 👁 Je lis les nombres
2. ? Je dis le nombre qui vient avant
3. ? Je dis le nombre qui vient après
4. ✍ Je range les nombres du plus grand au plus petit

A. 5 - 3 - 4 - 7 - 1

B. 8 - 5 - 3 - 9 - 2

C. 6 - 1 - 9 - 3 - 5

D. 9 - 2 - 4 - 7 - 8

Les nombres de 0 à 10

1. Je lis les nombres
2. Je dis le nombre qui vient avant
3. Je dis le nombre qui vient après
4. J'écris les nombres du plus petit au plus grand

A. - - - -

B. 8 - 5 - 9 - 3 - 4

C. - - - -

D. 7 - 6 - 2 - 1 - 9

Les nombres de 0 à 10

1. Je lis les nombres
2. Je dis le nombre qui vient avant
3. Je dis le nombre qui vient après
4. J'écris les nombres du plus petit au plus grand

A. - - - -

B. 8 - 5 - 9 - 3 - 4

C. - - - -

D. 7 - 6 - 2 - 1 - 9

Les nombres de 0 à 10

1. Je lis les nombres
2. Je dis le nombre qui vient avant
3. Je dis le nombre qui vient après
4. J'écris les nombres du plus petit au plus grand

A. - - - -

B. 8 - 5 - 9 - 3 - 4

C. - - - -

D. 7 - 6 - 2 - 1 - 9

Les nombres de 0 à 10

1. Je lis les nombres
2. Je dis le nombre qui vient avant
3. Je dis le nombre qui vient après
4. J'écris les nombres du plus petit au plus grand

A. - - - -

B. 8 - 5 - 9 - 3 - 4

C. - - - -

D. 7 - 6 - 2 - 1 - 9

## Les nombres de 0 à 5

1. 👁 Je lis les nombres
2. 🗣 Je dis les nombres en unité et dizaine
3. 🗣 Je dis le nombre qui vient avant
4. 🗣 Je dis le nombre qui vient après
5. ✍ J'écris les nombres du plus petit au plus grand

A.  $15 - 2 - 4 - 8 - 13$

B.  $9 - 5 - 6 - 10 - 11$

C.  $12 - 7 - 14 - 13 - 3$

D.  $1 - 9 - 13 - 10 - 8$

## Les nombres de 0 à 5

1. 👁 Je lis les nombres
2. 🗣 Je dis les nombres en unité et dizaine
3. 🗣 Je dis le nombre qui vient avant
4. 🗣 Je dis le nombre qui vient après
5. ✍ J'écris les nombres du plus petit au plus grand

A.  $15 - 2 - 4 - 8 - 13$

B.  $9 - 5 - 6 - 10 - 11$

C.  $12 - 7 - 14 - 13 - 3$

D.  $1 - 9 - 13 - 10 - 8$

## Les nombres de 0 à 5

1. 👁 Je lis les nombres
2. 🗣 Je dis les nombres en unité et dizaine
3. 🗣 Je dis le nombre qui vient avant
4. 🗣 Je dis le nombre qui vient après
5. ✍ J'écris les nombres du plus petit au plus grand

A.  $15 - 2 - 4 - 8 - 13$

B.  $9 - 5 - 6 - 10 - 11$

C.  $12 - 7 - 14 - 13 - 3$

D.  $1 - 9 - 13 - 10 - 8$

## Les nombres de 0 à 5

1. 👁 Je lis les nombres
2. 🗣 Je dis les nombres en unité et dizaine
3. 🗣 Je dis le nombre qui vient avant
4. 🗣 Je dis le nombre qui vient après
5. ✍ J'écris les nombres du plus petit au plus grand







A.  $15 - 2 - 4 - 8 - 13$

B.  $9 - 5 - 6 - 10 - 11$

C.  $12 - 7 - 14 - 13 - 3$

D.  $1 - 9 - 13 - 10 - 8$

## Les nombres de 0 à 15

1.  Je lis les nombres
  2.  Je dis le nombre qui vient avant
  3.  Je dis le nombre qui vient après
  4.  Je dis le nombre **en u et d**.
  5.  Je range les nombres du plus grand au plus petit.
- 







**A.** 8 - 12 - 7 - 2 - 13

**B.** 11 - 9 - 4 - 14 - 1

**C.** 10 - 3 - 15 - 5 - 12

**D.** 6 - 11 - 8 - 14 - 4

## Les nombres de 0 à 15

1.  Je lis les nombres
  2.  Je dis le nombre qui vient avant
  3.  Je dis le nombre qui vient après
  4.  Je dis le nombre **en u et d**.
  5.  Je range les nombres du plus grand au plus petit.
- 







**A.** 8 - 12 - 7 - 2 - 13

**B.** 11 - 9 - 4 - 14 - 1

**C.** 10 - 3 - 15 - 5 - 12

**D.** 6 - 11 - 8 - 14 - 4

## Les nombres de 0 à 15

1.  Je lis les nombres
  2.  Je dis le nombre qui vient avant
  3.  Je dis le nombre qui vient après
  4.  Je dis le nombre **en u et d**.
  5.  Je range les nombres du plus grand au plus petit.
- 







**A.** 8 - 12 - 7 - 2 - 13

**B.** 11 - 9 - 4 - 14 - 1

**C.** 10 - 3 - 15 - 5 - 12

**D.** 6 - 11 - 8 - 14 - 4

## Les nombres de 0 à 15

1.  Je lis les nombres
  2.  Je dis le nombre qui vient avant
  3.  Je dis le nombre qui vient après
  4.  Je dis le nombre **en u et d**.
  5.  Je range les nombres du plus grand au plus petit.
- 

**A.** 8 - 12 - 7 - 2 - 13

**B.** 11 - 9 - 4 - 14 - 1

**C.** 10 - 3 - 15 - 5 - 12

**D.** 6 - 11 - 8 - 14 - 4

## Les nombres de 0 à 19

1. 👁 Je lis les nombres
  2. 🗉 Je dis les nombres *en u et d*
  3. 🗉 Je dis le nombre qui vient avant
  4. 🗉 Je dis le nombre qui vient après
  5. ✍ Je décompose les nombres plus grands que 10
- Exemple :  $14 = 10 + 4$



**A.**  $12 - 7 - 16 - 2 - 5$

**B.**  $15 - 13 - 8 - 9 - 17$

**C.**  $18 - 1 - 19 - 4 - 11$

**D.**  $14 - 6 - 3 - 10 - 16$

## Les nombres de 0 à 19

1. 👁 Je lis les nombres
  2. 🗉 Je dis les nombres *en u et d*
  3. 🗉 Je dis le nombre qui vient avant
  4. 🗉 Je dis le nombre qui vient après
  5. ✍ Je décompose les nombres plus grands que 10
- Exemple :  $14 = 10 + 4$



**A.**  $12 - 7 - 16 - 2 - 5$

**B.**  $15 - 13 - 8 - 9 - 17$

**C.**  $18 - 1 - 19 - 4 - 11$

**D.**  $14 - 6 - 3 - 10 - 16$

## Les nombres de 0 à 19

1. 👁 Je lis les nombres
  2. 🗉 Je dis les nombres *en u et d*
  3. 🗉 Je dis le nombre qui vient avant
  4. 🗉 Je dis le nombre qui vient après
  5. ✍ Je décompose les nombres plus grands que 10
- Exemple :  $14 = 10 + 4$



**A.**  $12 - 7 - 16 - 2 - 5$

**B.**  $15 - 13 - 8 - 9 - 17$

**C.**  $18 - 1 - 19 - 4 - 11$

**D.**  $14 - 6 - 3 - 10 - 16$

## Les nombres de 0 à 19

1. 👁 Je lis les nombres
  2. 🗉 Je dis les nombres *en u et d*
  3. 🗉 Je dis le nombre qui vient avant
  4. 🗉 Je dis le nombre qui vient après
  5. ✍ Je décompose les nombres plus grands que 10
- Exemple :  $14 = 10 + 4$








**A.**  $12 - 7 - 16 - 2 - 5$

**B.**  $15 - 13 - 8 - 9 - 17$

**C.**  $18 - 1 - 19 - 4 - 11$

**D.**  $14 - 6 - 3 - 10 - 16$

## Les nombres de 0 à 19

1.  Je lis les nombres
2.  Je dis les nombres en u et d.
3.  Je dis le nombre qui vient avant
4.  Je dis le nombre qui vient après
5.  Je décompose les nombres :  $14 = 10 + 4$








A. 13 - 17 - 16 - 12 - 15

B. 10 - 13 - 18 - 19 - 17

C. 18 - 11 - 19 - 14 - 12

D. 14 - 16 - 13 - 10 - 18

## Les nombres de 0 à 19

1.  Je lis les nombres
2.  Je dis les nombres en u et d.
3.  Je dis le nombre qui vient avant
4.  Je dis le nombre qui vient après
5.  Je décompose les nombres :  $14 = 10 + 4$








A. 13 - 17 - 16 - 12 - 15

B. 10 - 13 - 18 - 19 - 17

C. 18 - 11 - 19 - 14 - 12

D. 14 - 16 - 13 - 10 - 18

## Les nombres de 0 à 19

1.  Je lis les nombres
2.  Je dis les nombres en u et d.
3.  Je dis le nombre qui vient avant
4.  Je dis le nombre qui vient après
5.  Je décompose les nombres :  $14 = 10 + 4$








A. 13 - 17 - 16 - 12 - 15

B. 10 - 13 - 18 - 19 - 17

C. 18 - 11 - 19 - 14 - 12

D. 14 - 16 - 13 - 10 - 18

## Les nombres de 0 à 19

1.  Je lis les nombres
2.  Je dis les nombres en u et d.
3.  Je dis le nombre qui vient avant
4.  Je dis le nombre qui vient après
5.  Je décompose les nombres :  $14 = 10 + 4$



A. 13 - 17 - 16 - 12 - 15

B. 10 - 13 - 18 - 19 - 17

C. 18 - 11 - 19 - 14 - 12

D. 14 - 16 - 13 - 10 - 18



Les nombres de 0 à 29

1. 👁 Je lis les nombres
2. ? Je dis les nombres en U et d
3. ? Je dis le nombre qui vient avant
4. ? Je dis le nombre qui vient après
5. ✍ Je décompose les nombres :  $24 = 10 + 10 + 4$



**A.** 13 - 27 - 16 - 22 - 25

**B.** 20 - 23 - 18 - 29 - 17

**C.** 21 - 11 - 19 - 24 - 12

**D.** 14 - 26 - 15 - 10 - 28

Les nombres de 0 à 29

1. 👁 Je lis les nombres
2. ? Je dis les nombres en U et d
3. ? Je dis le nombre qui vient avant
4. ? Je dis le nombre qui vient après
5. ✍ Je décompose les nombres :  $24 = 10 + 10 + 4$



**A.** 13 - 27 - 16 - 22 - 25

**B.** 20 - 23 - 18 - 29 - 17

**C.** 21 - 11 - 19 - 24 - 12

**D.** 14 - 26 - 15 - 10 - 28

Les nombres de 0 à 29

1. 👁 Je lis les nombres
2. ? Je dis les nombres en U et d
3. ? Je dis le nombre qui vient avant
4. ? Je dis le nombre qui vient après
5. ✍ Je décompose les nombres :  $24 = 10 + 10 + 4$



**A.** 13 - 27 - 16 - 22 - 25

**B.** 20 - 23 - 18 - 29 - 17

**C.** 21 - 11 - 19 - 24 - 12

**D.** 14 - 26 - 15 - 10 - 28

Les nombres de 0 à 29

1. 👁 Je lis les nombres
2. ? Je dis les nombres en U et d
3. ? Je dis le nombre qui vient avant
4. ? Je dis le nombre qui vient après
5. ✍ Je décompose les nombres :  $24 = 10 + 10 + 4$









**A.** 13 - 27 - 16 - 22 - 25

**B.** 20 - 23 - 18 - 29 - 17

**C.** 21 - 11 - 19 - 24 - 12

**D.** 14 - 26 - 15 - 10 - 28

## Les nombres de 0 à 39

1.  Je lis les nombres
  2.  Je dis les nombres en u et d
  3.  Je dis le nombre qui vient avant
  4.  Je dis le nombre qui vient après
  5.  Je décompose les nombres :  $24 = 10 + 10 + 4$
- 







**A.** 23 - 37 - 36 - 32 - 15

**B.** 30 - 23 - 18 - 39 - 27

**C.** 21 - 19 - 29 - 34 - 32

**D.** 34 - 26 - 35 - 20 - 38

## Les nombres de 0 à 39

1.  Je lis les nombres
  2.  Je dis les nombres en u et d
  3.  Je dis le nombre qui vient avant
  4.  Je dis le nombre qui vient après
  5.  Je décompose les nombres :  $24 = 10 + 10 + 4$
- 







**A.** 23 - 37 - 36 - 32 - 15

**B.** 30 - 23 - 18 - 39 - 27

**C.** 21 - 19 - 29 - 34 - 32

**D.** 34 - 26 - 35 - 20 - 38

## Les nombres de 0 à 39

1.  Je lis les nombres
  2.  Je dis les nombres en u et d
  3.  Je dis le nombre qui vient avant
  4.  Je dis le nombre qui vient après
  5.  Je décompose les nombres :  $24 = 10 + 10 + 4$
- 







**A.** 23 - 37 - 36 - 32 - 15

**B.** 30 - 23 - 18 - 39 - 27

**C.** 21 - 19 - 29 - 34 - 32

**D.** 34 - 26 - 35 - 20 - 38

## Les nombres de 0 à 39

1.  Je lis les nombres
  2.  Je dis les nombres en u et d
  3.  Je dis le nombre qui vient avant
  4.  Je dis le nombre qui vient après
  5.  Je décompose les nombres :  $24 = 10 + 10 + 4$
- 


**A.** 23 - 37 - 36 - 32 - 15

**B.** 30 - 23 - 18 - 39 - 27

**C.** 21 - 19 - 29 - 34 - 32

**D.** 34 - 26 - 35 - 20 - 38

## Les nombres de 0 à 49

1. Je lis les nombres
  2. Je dis les nombres *en u et d*
  3. Je dis le nombre qui vient avant
  4. Je dis le nombre qui vient après
  5. Je décompose les nombres :  $24 = 10 + 10 + 4$
- 


A.  $8 - 24 - 36 - 18 - 42$

B.  $34 - 47 - 16 - 29 - 40$

C.  $44 - 12 - 25 - 30 - 41$

D.  $26 - 49 - 10 - 47 - 32$

## Les nombres de 0 à 49

1. Je lis les nombres
  2. Je dis les nombres *en u et d*
  3. Je dis le nombre qui vient avant
  4. Je dis le nombre qui vient après
  5. Je décompose les nombres :  $24 = 10 + 10 + 4$
- 


A.  $8 - 24 - 36 - 18 - 42$

B.  $34 - 47 - 16 - 29 - 40$

C.  $44 - 12 - 25 - 30 - 41$

D.  $26 - 49 - 10 - 47 - 32$

## Les nombres de 0 à 49

1. Je lis les nombres
  2. Je dis les nombres *en u et d*
  3. Je dis le nombre qui vient avant
  4. Je dis le nombre qui vient après
  5. Je décompose les nombres :  $24 = 10 + 10 + 4$
- 


A.  $8 - 24 - 36 - 18 - 42$

B.  $34 - 47 - 16 - 29 - 40$

C.  $44 - 12 - 25 - 30 - 41$

D.  $26 - 49 - 10 - 47 - 32$

## Les nombres de 0 à 49

1. Je lis les nombres
  2. Je dis les nombres *en u et d*
  3. Je dis le nombre qui vient avant
  4. Je dis le nombre qui vient après
  5. Je décompose les nombres :  $24 = 10 + 10 + 4$
- 

A.  $8 - 24 - 36 - 18 - 42$

B.  $34 - 47 - 16 - 29 - 40$

C.  $44 - 12 - 25 - 30 - 41$

D.  $26 - 49 - 10 - 47 - 32$

## Les nombres de 0 à 49

1. 📖 Je lis les nombres
2. 🗣️ Je dis les nombres *en u et d*
3. 🗣️ Je dis le nombre qui vient avant
4. 🗣️ Je dis le nombre qui vient après
5. ✍️ Je décompose les nombres :  $24 = 20 + 4$



**A.** 16 - 43 - 26 - 17 - 30

**B.** 18 - 38 - 25 - 49 - 2

**C.** 5 - 46 - 32 - 23 - 9

**D.** 1 - 22 - 35 - 26 - 12

## Les nombres de 0 à 49

1. 📖 Je lis les nombres
2. 🗣️ Je dis les nombres *en u et d*
3. 🗣️ Je dis le nombre qui vient avant
4. 🗣️ Je dis le nombre qui vient après
5. ✍️ Je décompose les nombres :  $24 = 20 + 4$



**A.** 16 - 43 - 26 - 17 - 30

**B.** 18 - 38 - 25 - 49 - 2

**C.** 5 - 46 - 32 - 23 - 9

**D.** 1 - 22 - 35 - 26 - 12

## Les nombres de 0 à 49

1. 📖 Je lis les nombres
2. 🗣️ Je dis les nombres *en u et d*
3. 🗣️ Je dis le nombre qui vient avant
4. 🗣️ Je dis le nombre qui vient après
5. ✍️ Je décompose les nombres :  $24 = 20 + 4$



**A.** 16 - 43 - 26 - 17 - 30

**B.** 18 - 38 - 25 - 49 - 2

**C.** 5 - 46 - 32 - 23 - 9

**D.** 1 - 22 - 35 - 26 - 12

## Les nombres de 0 à 49

1. 📖 Je lis les nombres
2. 🗣️ Je dis les nombres *en u et d*
3. 🗣️ Je dis le nombre qui vient avant
4. 🗣️ Je dis le nombre qui vient après
5. ✍️ Je décompose les nombres :  $24 = 20 + 4$




**A.** 16 - 43 - 26 - 17 - 30

**B.** 18 - 38 - 25 - 49 - 2

**C.** 5 - 46 - 32 - 23 - 9

**D.** 1 - 22 - 35 - 26 - 12

## Les nombres de 0 à 49

1. 📖 Je lis les nombres
  2. 🗣️ Je dis les nombres D, U.
  3. 🗣️ Je dis le nombre qui vient avant
  4. 🗣️ Je dis le nombre qui vient après
  5. ✍️ Je décompose les nombres :  $24 = 20 + 4$
  6. ✍️ Je range les nombres du plus petit au plus grand
- 

A.  $25 - 34 - 5 - 46 - 18$


B.  $20 - 15 - 47 - 31 - 41$

C.  $13 - 49 - 23 - 38 - 9$

D.  $26 - 27 - 43 - 48 - 33$

DI.

## Les nombres de 0 à 49

1. 📖 Je lis les nombres
  2. 🗣️ Je dis les nombres D, U.
  3. 🗣️ Je dis le nombre qui vient avant
  4. 🗣️ Je dis le nombre qui vient après
  5. ✍️ Je décompose les nombres :  $24 = 20 + 4$
  6. ✍️ Je range les nombres du plus petit au plus grand
- 


A.  $25 - 34 - 5 - 46 - 18$

B.  $20 - 15 - 47 - 31 - 41$

C.  $13 - 49 - 23 - 38 - 9$

D.  $26 - 27 - 43 - 48 - 33$

## Les nombres de 0 à 49

1. 📖 Je lis les nombres
  2. 🗣️ Je dis les nombres D, U.
  3. 🗣️ Je dis le nombre qui vient avant
  4. 🗣️ Je dis le nombre qui vient après
  5. ✍️ Je décompose les nombres :  $24 = 20 + 4$
  6. ✍️ Je range les nombres du plus petit au plus grand
- 


A.  $25 - 34 - 5 - 46 - 18$

B.  $20 - 15 - 47 - 31 - 41$

C.  $13 - 49 - 23 - 38 - 9$

D.  $26 - 27 - 43 - 48 - 33$

## Les nombres de 0 à 49

1. 📖 Je lis les nombres
  2. 🗣️ Je dis les nombres D, U.
  3. 🗣️ Je dis le nombre qui vient avant
  4. 🗣️ Je dis le nombre qui vient après
  5. ✍️ Je décompose les nombres :  $24 = 20 + 4$
  6. ✍️ Je range les nombres du plus petit au plus grand
- 


A.  $25 - 34 - 5 - 46 - 18$

B.  $20 - 15 - 47 - 31 - 41$

C.  $13 - 49 - 23 - 38 - 9$


D.  $26 - 27 - 43 - 48 - 33$

## Les nombres de 0 à 59

1. 📖 Je lis les nombres
  2. 🗣️ Je dis les nombres en D, U.
  3. 🗣️ Je dis le nombre qui vient avant
  4. 🗣️ Je dis le nombre qui vient après
  5. ✍️ Je décompose les nombres :  $24 = 10 + 10 + 4$
  6. ✍️ Je range les nombres du plus petit au plus grand
- 


- A.** 34 - 15 - 19 - 47 - 58
- B.** 12 - 54 - 57 - 29 - 33
- C.** 46 - 58 - 50 - 17 - 38
- D.** 41 - 52 - 13 - 22 - 53

## Les nombres de 0 à 59

1. 📖 Je lis les nombres
  2. 🗣️ Je dis les nombres en D, U.
  3. 🗣️ Je dis le nombre qui vient avant
  4. 🗣️ Je dis le nombre qui vient après
  5. ✍️ Je décompose les nombres :  $24 = 10 + 10 + 4$
  6. ✍️ Je range les nombres du plus petit au plus grand
- 


- A.** 34 - 15 - 19 - 47 - 58
- B.** 12 - 54 - 57 - 29 - 33
- C.** 46 - 58 - 50 - 17 - 38
- D.** 41 - 52 - 13 - 22 - 53

## Les nombres de 0 à 59

1. 📖 Je lis les nombres
  2. 🗣️ Je dis les nombres en D, U.
  3. 🗣️ Je dis le nombre qui vient avant
  4. 🗣️ Je dis le nombre qui vient après
  5. ✍️ Je décompose les nombres :  $24 = 10 + 10 + 4$
  6. ✍️ Je range les nombres du plus petit au plus grand
- 

- A.** 34 - 15 - 19 - 47 - 58
- B.** 12 - 54 - 57 - 29 - 33
- C.** 46 - 58 - 50 - 17 - 38
- D.** 41 - 52 - 13 - 22 - 53

## Les nombres de 0 à 59

1. 📖 Je lis les nombres
  2. 🗣️ Je dis les nombres en D, U.
  3. 🗣️ Je dis le nombre qui vient avant
  4. 🗣️ Je dis le nombre qui vient après
  5. ✍️ Je décompose les nombres :  $24 = 10 + 10 + 4$
  6. ✍️ Je range les nombres du plus petit au plus grand
- 

- A.** 34 - 15 - 19 - 47 - 58
- B.** 12 - 54 - 57 - 29 - 33
- C.** 46 - 58 - 50 - 17 - 38
- D.** 41 - 52 - 13 - 22 - 53

Les nombres de 0 à 69

1. 🗣️ Je lis les nombres
2. 🗣️ Je dis le nombre qui vient avant
3. 🗣️ Je dis le nombre qui vient après
4. ✍️ Je décompose les nombres :  $24 = 10 + 10 + 4$
5. ✍️ Je range les nombres du plus grand au plus petit

A.  $26 - 47 - 60 - 13 - 45$

B.  $58 - 22 - 67 - 64 - 39$

C.  $14 - 41 - 52 - 54 - 15$

D.  $68 - 43 - 20 - 19 - 61$

Les nombres de 0 à 69

1. 🗣️ Je lis les nombres
2. 🗣️ Je dis le nombre qui vient avant
3. 🗣️ Je dis le nombre qui vient après
4. ✍️ Je décompose les nombres :  $24 = 10 + 10 + 4$
5. ✍️ Je range les nombres du plus grand au plus petit

A.  $26 - 47 - 60 - 13 - 45$

B.  $58 - 22 - 67 - 64 - 39$

C.  $14 - 41 - 52 - 54 - 15$

D.  $68 - 43 - 20 - 19 - 61$

Les nombres de 0 à 69

1. 🗣️ Je lis les nombres
2. 🗣️ Je dis le nombre qui vient avant
3. 🗣️ Je dis le nombre qui vient après
4. ✍️ Je décompose les nombres :  $24 = 10 + 10 + 4$
5. ✍️ Je range les nombres du plus grand au plus petit

A.  $26 - 47 - 60 - 13 - 45$

B.  $58 - 22 - 67 - 64 - 39$

C.  $14 - 41 - 52 - 54 - 15$

D.  $68 - 43 - 20 - 19 - 61$

Les nombres de 0 à 69

1. 🗣️ Je lis les nombres
2. 🗣️ Je dis le nombre qui vient avant
3. 🗣️ Je dis le nombre qui vient après
4. ✍️ Je décompose les nombres :  $24 = 10 + 10 + 4$
5. ✍️ Je range les nombres du plus grand au plus petit

A.  $26 - 47 - 60 - 13 - 45$

B.  $58 - 22 - 67 - 64 - 39$

C.  $14 - 41 - 52 - 54 - 15$

D.  $68 - 43 - 20 - 19 - 61$

Les nombres de 0 à 79

1. 📖 Je lis les nombres
2. 🗣️ Je dis le nombre qui vient avant
3. 🗣️ Je dis le nombre qui vient après
4. ✍️ Je décompose les nombres :  $24 = 10 + 10 + 4$
5. ✍️ Je range les nombres du plus petit au plus grand

**A.**  $65 - 62 - 70 - 43 - 69$

**B.**  $75 - 78 - 42 - 37 - 77$

**C.**  $59 - 71 - 27 - 17 - 72$

**D.**  $79 - 61 - 16 - 34 - 22$

Les nombres de 0 à 79

1. 📖 Je lis les nombres
2. 🗣️ Je dis le nombre qui vient avant
3. 🗣️ Je dis le nombre qui vient après
4. ✍️ Je décompose les nombres :  $24 = 10 + 10 + 4$
5. ✍️ Je range les nombres du plus petit au plus grand

**A.**  $65 - 62 - 70 - 43 - 69$

**B.**  $75 - 78 - 42 - 37 - 77$

**C.**  $59 - 71 - 27 - 17 - 72$

**D.**  $79 - 61 - 16 - 34 - 22$

Les nombres de 0 à 79

1. 📖 Je lis les nombres
2. 🗣️ Je dis le nombre qui vient avant
3. 🗣️ Je dis le nombre qui vient après
4. ✍️ Je décompose les nombres :  $24 = 10 + 10 + 4$
5. ✍️ Je range les nombres du plus petit au plus grand

**A.**  $65 - 62 - 70 - 43 - 69$

**B.**  $75 - 78 - 42 - 37 - 77$

**C.**  $59 - 71 - 27 - 17 - 72$

**D.**  $79 - 61 - 16 - 34 - 22$

Les nombres de 0 à 79

1. 📖 Je lis les nombres
2. 🗣️ Je dis le nombre qui vient avant
3. 🗣️ Je dis le nombre qui vient après
4. ✍️ Je décompose les nombres :  $24 = 10 + 10 + 4$
5. ✍️ Je range les nombres du plus petit au plus grand

**A.**  $65 - 62 - 70 - 43 - 69$

**B.**  $75 - 78 - 42 - 37 - 77$

**C.**  $59 - 71 - 27 - 17 - 72$

**D.**  $79 - 61 - 16 - 34 - 22$



Les nombres de 0 à 89

1. 📖 Je lis les nombres
2. 🗣️ Je dis le nombre qui vient avant
3. 🗣️ Je dis le nombre qui vient après
4. ✍️ Je décompose les nombres :  $24 = 10 + 10 + 4$
5. ✍️ Je range les nombres du plus petit au plus grand

A.  $65 - 48 - 81 - 76 - 55$

B.  $84 - 78 - 80 - 62 - 83$

C.  $53 - 89 - 85 - 61 - 16$

D.  $26 - 41 - 87 - 82 - 62$

Les nombres de 0 à 89

1. 📖 Je lis les nombres
2. 🗣️ Je dis le nombre qui vient avant
3. 🗣️ Je dis le nombre qui vient après
4. ✍️ Je décompose les nombres :  $24 = 10 + 10 + 4$
5. ✍️ Je range les nombres du plus petit au plus grand

A.  $65 - 48 - 81 - 76 - 55$

B.  $84 - 78 - 80 - 62 - 83$

C.  $53 - 89 - 85 - 61 - 16$

D.  $26 - 41 - 87 - 82 - 62$

Les nombres de 0 à 89

1. 📖 Je lis les nombres
2. 🗣️ Je dis le nombre qui vient avant
3. 🗣️ Je dis le nombre qui vient après
4. ✍️ Je décompose les nombres :  $24 = 10 + 10 + 4$
5. ✍️ Je range les nombres du plus petit au plus grand

A.  $65 - 48 - 81 - 76 - 55$

B.  $84 - 78 - 80 - 62 - 83$

C.  $53 - 89 - 85 - 61 - 16$

D.  $26 - 41 - 87 - 82 - 62$

Les nombres de 0 à 89

1. 📖 Je lis les nombres
2. 🗣️ Je dis le nombre qui vient avant
3. 🗣️ Je dis le nombre qui vient après
4. ✍️ Je décompose les nombres :  $24 = 10 + 10 + 4$
5. ✍️ Je range les nombres du plus petit au plus grand

A.  $65 - 48 - 81 - 76 - 55$

B.  $84 - 78 - 80 - 62 - 83$

C.  $53 - 89 - 85 - 61 - 16$

D.  $26 - 41 - 87 - 82 - 62$

Les nombres de 0 à 89

1. 📖 Je lis les nombres
2. 🗨️ Je dis le nombre qui vient avant
3. 🗨️ Je dis le nombre qui vient après
4. ✍️ Je décompose les nombres :  $24 = 20 + 4$
5. ✍️ Je range les nombres du plus petit au plus grand

**A.** 76 - 87 - 69 - 70 - 84

**B.** 62 - 86 - 76 - 88 - 79

**C.** 54 - 63 - 73 - 81 - 77

**D.** 85 - 74 - 66 - 80 - 71

Les nombres de 0 à 89

1. 📖 Je lis les nombres
2. 🗨️ Je dis le nombre qui vient avant
3. 🗨️ Je dis le nombre qui vient après
4. ✍️ Je décompose les nombres :  $24 = 20 + 4$
5. ✍️ Je range les nombres du plus petit au plus grand

**A.** 76 - 87 - 69 - 70 - 84

**B.** 62 - 86 - 76 - 88 - 79

**C.** 54 - 63 - 73 - 81 - 77

**D.** 85 - 74 - 66 - 80 - 71

Les nombres de 0 à 89

1. 📖 Je lis les nombres
2. 🗨️ Je dis le nombre qui vient avant
3. 🗨️ Je dis le nombre qui vient après
4. ✍️ Je décompose les nombres :  $24 = 20 + 4$
5. ✍️ Je range les nombres du plus petit au plus grand

**A.** 76 - 87 - 69 - 70 - 84

**B.** 62 - 86 - 76 - 88 - 79

**C.** 54 - 63 - 73 - 81 - 77

**D.** 85 - 74 - 66 - 80 - 71

Les nombres de 0 à 89

1. 📖 Je lis les nombres
2. 🗨️ Je dis le nombre qui vient avant
3. 🗨️ Je dis le nombre qui vient après
4. ✍️ Je décompose les nombres :  $24 = 20 + 4$
5. ✍️ Je range les nombres du plus petit au plus grand

**A.** 76 - 87 - 69 - 70 - 84

**B.** 62 - 86 - 76 - 88 - 79

**C.** 54 - 63 - 73 - 81 - 77

**D.** 85 - 74 - 66 - 80 - 71

Les nombres de 0 à 99

1. 🗉 Je lis les nombres
2. 🗉 Je dis le nombre qui vient avant
3. 🗉 Je dis le nombre qui vient après
4. ✍ Je décompose les nombres :  $24 = 20 + 4$
5. ✍ Je range les nombres du plus grand au plus petit

A.  $47 - 56 - 78 - 91 - 63$

B.  $93 - 20 - 87 - 29 - 97$

C.  $67 - 41 - 16 - 31 - 74$

D.  $88 - 61 - 94 - 43 - 92$

Les nombres de 0 à 99

1. 🗉 Je lis les nombres
2. 🗉 Je dis le nombre qui vient avant
3. 🗉 Je dis le nombre qui vient après
4. ✍ Je décompose les nombres :  $24 = 20 + 4$
5. ✍ Je range les nombres du plus grand au plus petit

A.  $47 - 56 - 78 - 91 - 63$

B.  $93 - 20 - 87 - 29 - 97$

C.  $67 - 41 - 16 - 31 - 74$

D.  $88 - 61 - 94 - 43 - 92$

Les nombres de 0 à 99

1. 🗉 Je lis les nombres
2. 🗉 Je dis le nombre qui vient avant
3. 🗉 Je dis le nombre qui vient après
4. ✍ Je décompose les nombres :  $24 = 20 + 4$
5. ✍ Je range les nombres du plus grand au plus petit

A.  $47 - 56 - 78 - 91 - 63$

B.  $93 - 20 - 87 - 29 - 97$

C.  $67 - 41 - 16 - 31 - 74$

D.  $88 - 61 - 94 - 43 - 92$

Les nombres de 0 à 99

1. 🗉 Je lis les nombres
2. 🗉 Je dis le nombre qui vient avant
3. 🗉 Je dis le nombre qui vient après
4. ✍ Je décompose les nombres :  $24 = 20 + 4$
5. ✍ Je range les nombres du plus grand au plus petit

A.  $47 - 56 - 78 - 91 - 63$

B.  $93 - 20 - 87 - 29 - 97$

C.  $67 - 41 - 16 - 31 - 74$

D.  $88 - 61 - 94 - 43 - 92$

Les nombres de 0 à 99

1. 🗣️ Je lis les nombres
2. 🗣️ Je dis le nombre qui vient avant
3. 🗣️ Je dis le nombre qui vient après
4. ✍️ Je décompose les nombres :  $24 = 20 + 4$
5. ✍️ Je range les nombres du plus petit au plus grand

A.  $55 - 87 - 12 - 74 - 99$

B.  $23 - 62 - 47 - 51 - 55$

C.  $57 - 11 - 6 - 76 - 37$

D.  $68 - 18 - 23 - 88 - 81$

Les nombres de 0 à 99

1. 🗣️ Je lis les nombres
2. 🗣️ Je dis le nombre qui vient avant
3. 🗣️ Je dis le nombre qui vient après
4. ✍️ Je décompose les nombres :  $24 = 20 + 4$
5. ✍️ Je range les nombres du plus petit au plus grand

A.  $55 - 87 - 12 - 74 - 99$

B.  $23 - 62 - 47 - 51 - 55$

C.  $57 - 11 - 6 - 76 - 37$

D.  $68 - 18 - 23 - 88 - 81$

Les nombres de 0 à 99

1. 🗣️ Je lis les nombres
2. 🗣️ Je dis le nombre qui vient avant
3. 🗣️ Je dis le nombre qui vient après
4. ✍️ Je décompose les nombres :  $24 = 20 + 4$
5. ✍️ Je range les nombres du plus petit au plus grand

A.  $55 - 87 - 12 - 74 - 99$

B.  $23 - 62 - 47 - 51 - 55$

C.  $57 - 11 - 6 - 76 - 37$

D.  $68 - 18 - 23 - 88 - 81$

Les nombres de 0 à 99

1. 🗣️ Je lis les nombres
2. 🗣️ Je dis le nombre qui vient avant
3. 🗣️ Je dis le nombre qui vient après
4. ✍️ Je décompose les nombres :  $24 = 20 + 4$
5. ✍️ Je range les nombres du plus petit au plus grand

A.  $55 - 87 - 12 - 74 - 99$

B.  $23 - 62 - 47 - 51 - 55$

C.  $57 - 11 - 6 - 76 - 37$

D.  $68 - 18 - 23 - 88 - 81$